






- 1) En atelier de technologie, nous avons reçu une plaque de PVC de 2400 mm par 1200 mm, indiquez ses dimensions en ..... cm par ..... cm et ensuite en ..... m par ..... m
- 2) Le comptable d'une banque doit saisir les dépôts d'argent en k€, aidez-le à convertir les sommes suivantes :  
150 € en ..... k€ ; 9900 € en ..... k€ ; 225000 € en ..... k€ ;
- 3) Un préparateur en pharmacie prépare le dosage de médicaments, (ne vous trompez-pas!!!!)  
500 µg en ..... mg ; 90000 ng en ..... mg
- 4) Radio Castel émet sur la fréquence 88,1 MHz ce qui fait ..... Hz
- 5) La consommation électrique d'une famille est 859 kWh par mois, cela fait ..... Wh
- 6) Vous mesurez un courant électrique de 850 mA avec un ampèremètre, cela fait .....A
- 7) Un condensateur de 470 nF fait ..... µF
- 8) Voici un récapitulatif de supports de stockage informatique :

Disque dur	DVD	Clé USB	Cd-Rom	Disquette 3 <sup>1/2</sup>
2 To	4,7 Go	2 Go	640 Mo	1 444 000 o
				

**(indiquez des valeurs entières, des parties incomplètes de Cd-Rom, DVD ou de clé USB n'ont aucun sens !)**

- Un Cd-Rom est l'équivalent de ..... disquette 3<sup>1/2</sup>
- La clé USB est l'équivalent de ..... Cd-Rom et de ..... disquette 3<sup>1/2</sup>
- Le DVD est l'équivalent de ..... clé USB et de ..... CD-Rom
- Le disque dur est l'équivalent de ..... DVD et de ..... clé USB