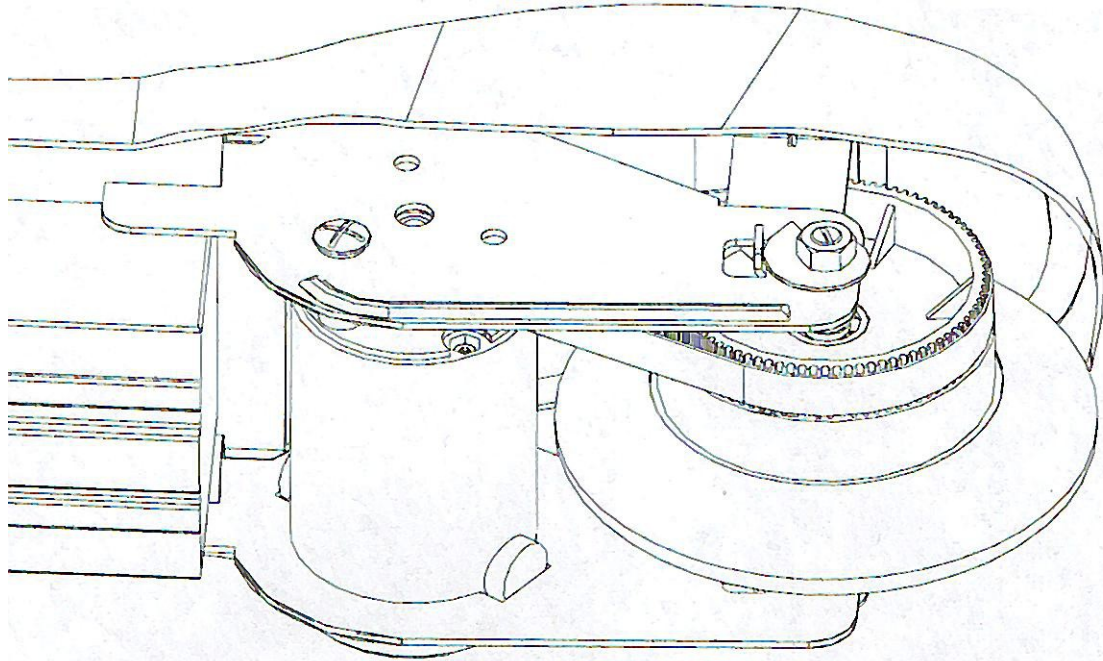


La trottinette électrique

Nom :

Prénom :

Avec le logiciel eDrawings, démontez les éléments composant la fonction propulsion.



Coloriez les pièces suivantes :



Moteur (rouge)

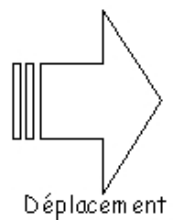
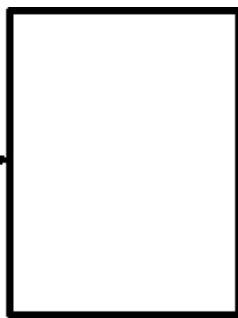



Courroie (bleu)



Roue (vert)

Complétez la chaîne d'énergie de la trottinette en indiquant le nom des éléments :



Stockage de l'énergie

Transforme l'énergie électrique en énergie mécanique

Transmet l'énergie

Reçoit l'énergie, met la trottinette en mouvement.